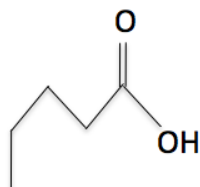


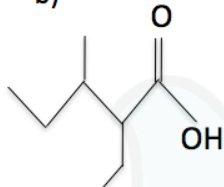
Ácido Carboxílico

1) Dê as nomenclaturas:

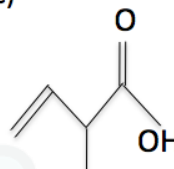
a)



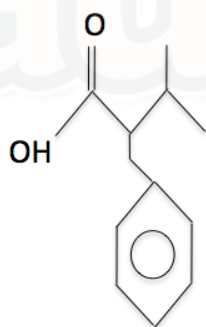
b)



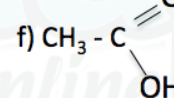
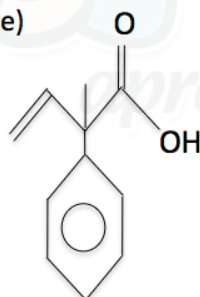
c)



d)



e)



2) Dê as fórmulas estruturais:

a) ácido 2-metil-butanóico

b) ácido-2,3-dimetil-hexanóico

c) ácido-2,2-dimetil-but-3-enóico

d) ácido-2-benzil-3-metil-hexanóico

e) ácido-2-fenil-but-3-enóico

f) ácido-metanóico

Gabarito

- 1) a) ácido pentanóico
- b) ácido-2-etil-3-metil-pentanóico
- c) ácido-2-metil-but-3-enóico
- d) ácido-2-benzil-3-metil-butanóico
- e) ácido-2-fenil-2-metil-but-3-enóico
- f) ácido-etanóico

2)

