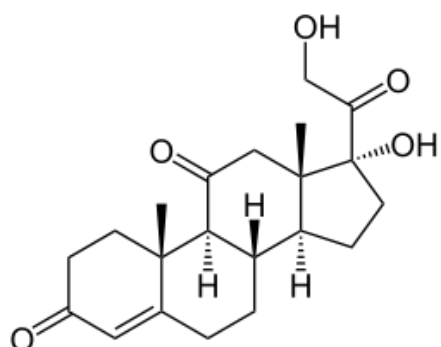


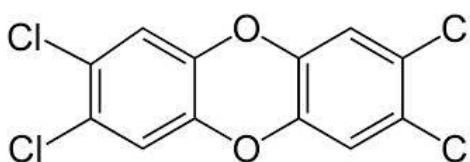
Função Orgânica = Função Química

Para cada um dos compostos abaixo, identifique as funções químicas presentes na molécula:

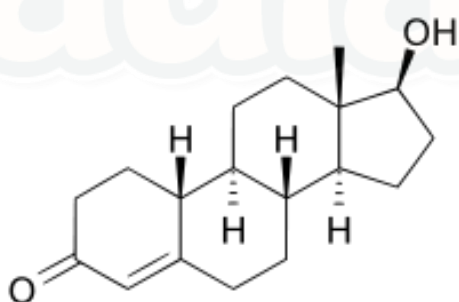
1-



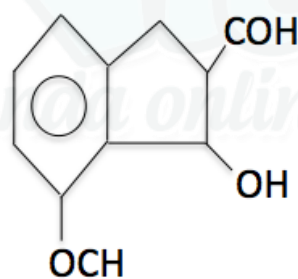
2-



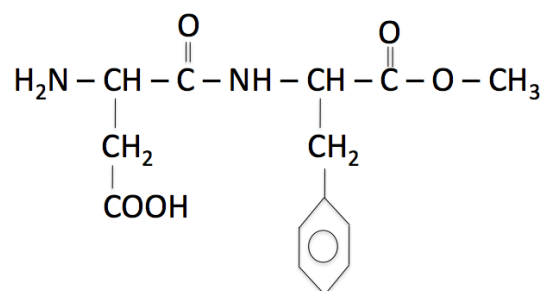
3-



4-



5-



Gabarito

1) Cetona e álcool

2) Haleto orgânico e éter

3) Cetona e Álcool

4) Éter, álcool e aldeído

5) Amina, ácido carboxílico, amida e éster

