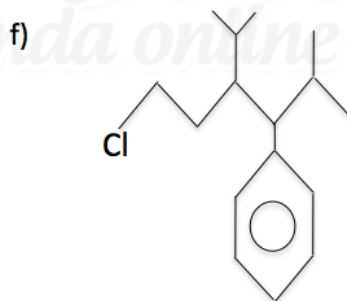
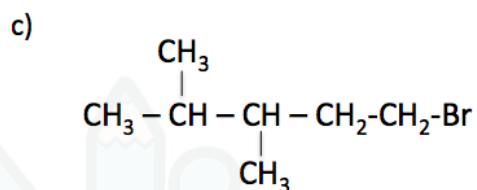
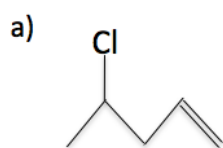


## Haleto Orgânico

1) Dê as nomenclaturas:



2) Dê as fórmulas estruturais:

a) cloro-etano

b) 2-bromo-propano

c) 1-bromo-propano

d) 4-iodo-2-metil-butano

e) 2,3-dicloro-butano

f) 5-cloro-2-fenil-3,3-dimetil-pentano

## Gabarito

- 1) a) 4-cloro-pent-1-eno
- b) 4-bromo-2-metil-butano
- c) 5-bromo-2,3-dimetil-pentano
- d) 7-iodo-5-etil-3-metil-octano
- e) 1-cloro-3-isopropil-1,5-dimetil-hexano
- f) 6-cloro-3-fenil-4-isopropil-2-metil-hexano

2)

