

Hidrocarboneto

1) Dê as nomenclaturas:

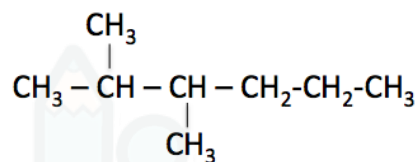
a)



b)



c)



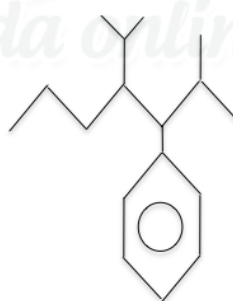
d)



e)



f)



2) Dê as fórmulas estruturais:

a) 4-metil-pent-1-ino

b) 4-etil-2-metil-heptano

c) 2-metil-hexano

d) 4-etil-2,6-dimetil-octano

e) metil-ciclopentano

f) 3-fenil-4-isopropil-2,6-dimetil-heptano

Gabarito

- 1) a) 4-metil-pent-1-eno
- b) 3,5-dimetil-heptano
- c) 2,3-dimetil-hexano
- d) 4-etil-2,5,6-trimetil-octano
- e) 1,2-dimetil-ciclopentano
- f) 3-fenil-4-isopropil-2-metil-heptano

2)

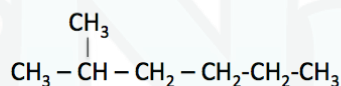
a)



b)



c)



d)



e)



f)

