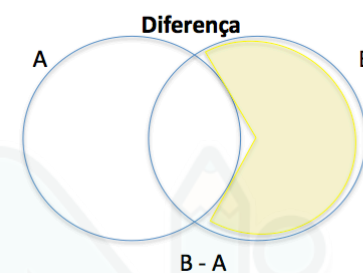
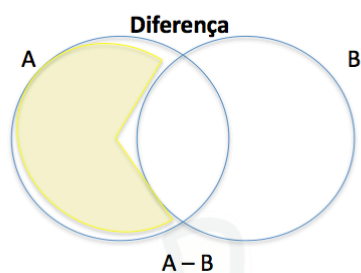
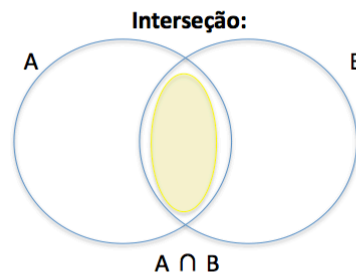
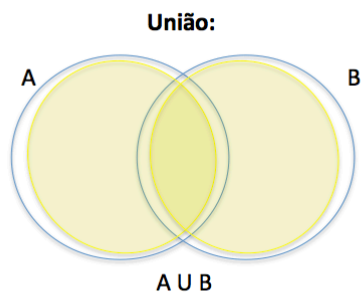


Conjunto:



aulasNiap
aprenda online

Exercício Resolvido:

Numa escola, os primeiros colegiais A e B tem 69 alunos. Uma pesquisa relevou o esporte preferido dos alunos dessas classes:

- 30 gostam de vôlei
- 20 gostam de basquete
- 40 gostam de futebol
- 6 gostam de vôlei e futebol
- 10 gostam de basquete e futebol
- 8 gostam de vôlei e basquete
- 3 gostam de vôlei, basquete e futebol.

Determine o número de alunos que gostam somente de futebol

